
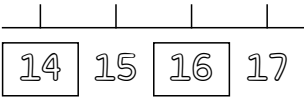




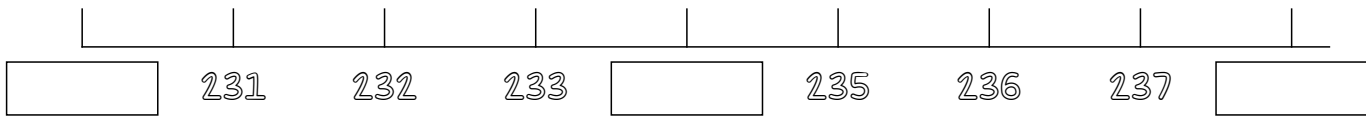
Ejemplo

Resuelve las siguientes operaciones

Dictado de Numeros (100-200)




1- Representa los numeros Faltantes en la recta.



2- Incrementa de 10 en 10 el numero dado.



3- Incrementa de 100 en 100 el numero dado.



4- Organiza de mayor a menor la serie de numeros.



5- Incrementa de 5 en 5 el numero dado.

